




**SAMSUN CANİK  
KIZ ANADOLU İMAM HATİP LİSESİ**  
**5. SINIF ÖĞRENCİ KABUL SINAVI**  
**2023**

Adı Soyadı : .....  
Okulu : .....  
T.C. Kimlik No : .....

ALANLAR	SORU SAYISI	TOPLAM SORU SAYISI	SÜRE
TÜRKÇE	15	75 SORU	120 DAKİKA
MATEMATİK	15		
FEN BİLİMLERİ	15		
SOSYAL BİLGİLER	10		
DİN KÜL.AH.BİL.	10		
YABANCI DİL	10		

1. Sınav süresince gözetmenlerin uyarılarına dikkat ediniz.
2. Sınav süresince kitap, sözlük veya elektronik araçları yanınızda bulundurmayınız.
3. Cevap kağıdınızdaki bilgilerin doğruluğunu kontrol ediniz.
4. Kitapçık üzerindeki ad, soyad ve okul bilgilerinizi yazmayı unutmayınız.
5. Cevap kağıdınız üzerinde bulunan kitapçık türünü doğru kodladığınızdan emin olunuz.
6. Sınavın değerlendirilmesi optik okuma araçları ve elektronik ortamda yapılacağından ikili veya toplu kopya çekilmesi tespit edilmektedir. Bu gibi durumlarda sınavınız geçersiz sayılacaktır.
7. Cevap kağıdı üzerinde kurşun kalemle işaretleme yapınız. Değiştirmek istediğiniz cevabınızı yumuşak silgi ile iz bırakmadan siliniz. Cevap kağıdınızı buruşturmayınız ve katlamayınız.
8. Soru kitapçığınızı sınav başlamadan kontrol ediniz. Eksik sayfa varsa değiştirilmesini isteyiniz.
9. Sınav bitiminde cevap kağıdınızı teslim etmeyi unutmayınız.
10. Başlayınız denilmeden kitapçığınızı açmayınız.
11. TC Kimlik numaranızı cevap formu üzerindeki alana dikkatli kodlayınız.
12. Her sorunun bir doğru cevabı bulunmaktadır.
13. Üç yanlış cevap bir doğru cevabı götürmektedir. Doğruluğundan emin olmadığınız soruları boş bırakmak yararınıza olacaktır.

1.



Bir bisiklet yarışında ilk altı sırayı alan bisikletçilerin isimleri şöyledir: Mehmet, Selim, Fatih, Osman, Harun, Enes

- Bu bisikletçilerden Osman 5. sırayı almıştır.
- Selim ile Harun sıralamada arka arkaya yarış bitirmiştir ve her ikisi de sıralamada Fatih'ten sonra gelmektedir.
- Enes ile Mehmet arasında ise dört kişi bulunmaktadır ve Enes sıralamada Mehmet'ten önce yarış bitirmiştir.

**Buna göre yarış 2. sırada bitiren yarışmacı aşağıdakilerden hangisidir?**

- A) Fatih                      B) Selim                      C) Enes                      D) Harun

2. Dikkat et ( ) Buralar sizin oralara benzemez ( ) Dağlar ( ) sarp yamaçlar ve dik yokuşlar çoktur burada ( )

**Bu cümle içinde ( ) şeklinde geçen yerlerde gelmesi gereken noktalama işaretleri sırasıyla aşağıdakilerden hangisinde verilmiştir?**

- A) (.) (,) (;) (?)  
B) (?) (!) (') (:)  
C) (!) (.) (,) (.)  
D) (!) (,) (,) (;)

3. (1) Deniz kenarları yazın pek çok kimse tarafından ziyaret edilen ama aynı zamanda pek çok çöpün atılmasıyla kirletilen yerlerdir. (2) Oysa bu alanlar bize emanet edilmiş olan tabiat güzellikleridir. (3) Bunun için onların temiz tutulması ve gelecek nesillere bozulmadan teslim edilmesi bizim sorumluluğumuzdadır. (4) Bu amaçla pek çok gönüllü her yıl sonbaharda bir araya gelerek deniz kıyılarını temizleyip çıkan çöpleri kamuoyuna sunuyorlar. (5) Dileğimiz bu şekilde deniz kıyılarımızın daha temiz tutulmasıdır.

**Bu metnin ilk cümlesindeki soruna numaralandırılmış cümlelerin hangisinde bir çözüm sunulmuştur?**

- A) 2.  
B) 3.  
C) 4.  
D) 5.

4.

A ● -	J ● - - -	S ● ● ●
B - ● ● ●	K - ● -	T -
C - ● - ●	L - ● ● ●	U ● ● -
D - ● ●	M - -	V ● ● -
E ●	N - ●	W - - -
F ● ● - ●	O - - -	X - ● ● -
G - - ●	P ● - - -	Y - - -
H ● ● ● ●	Q - - - -	Z - - ● ●
I ● ●	R - - ●	

Mors alfabesini inceleyen bir öğrenci ismini bu alfabeyle göre aşağıdaki şekilde kodlamıştır.

...	.	..	...	..	-.
-----	---	----	-----	----	----

**Bu öğrencinin adı aşağıdakilerden hangisidir?**

- A) Salih  
B) Selin  
C) Nesli  
D) Nisan

5. Bu arabayı almayı bana öneren en yakın arkadaşım.

**Bu cümleyle aynı anlama gelen cümle aşağıdakilerden hangisidir?**

- A) En yakın arkadaşım bu arabayı almayı bana tavsiye etti.  
B) Yakın arkadaşlarımdan biri bu arabayı bana haber etti.  
C) Bu arabayı almam için arkadaşım bana sitem etti.  
D) Araba almamı bana söyleyen en yakın arkadaşım.



6. (I) Bir süre bekledikten sonra köşe başından otobüsün döndüğünü gördüm.  
 (II) Koşarak durağa ulaştığımda otobüsün henüz gelmediğini fark ettim.  
 (III) Aceleyle hazırlanıp evden hızlıca çıktım.  
 (IV) Yaklaşan otobüsün çok kalabalık olduğunu görünce moralim bozuldu.

**Numaralandırılmış cümleler olayların oluş sırasına göre nasıl sıralanmalıdır?**

- A) I - III - II - IV  
 B) IV - II - I - III  
 C) II - IV - I - III  
 D) III - II - I - IV

7. Dilimizde bazı kelimelerin sonlarına getirilen bir yapım eki sayesinde o kelimedeki meslek anlamı kazandıran yeni bir kelime türetilmektedir.

**Aşağıdakilerden hangisinde bu kurala uygun bir örnek bulunmaktadır?**

- A) Eskiden mahalle aralarında ellerindeki kaplarla yoğurtçular gezerdi.  
 B) Yolda bozulan arabayı tamir ettirmek için ustaya götürdük.  
 C) Manavdan biraz meyve alalım.  
 D) Ticaretle uğraşan kişiler düzgün ahlaklı olmalıdır.

8. Profesyonel futbol yaşamına 16 yaşında ülkesi İngiltere’de adım atan ünlü futbolcu yıllardır dünyanın en önemli kulüplerinden birinde top koşturuyor.

**Bu cümlede söz edilen kişiyle ilgili aşağıdakilerden hangisi kesinlikle söylenir?**

- A) Hala İngiltere’de yaşamaktadır.  
 B) Yaşı 16’dan büyüktür.  
 C) İngiltere dışında futbol oynamıştır.  
 D) Futbolu hobi olarak oynamaktadır.

9.



**Görselden "Müze Kart" ile ilgili aşağıdakilerden hangisine ulaşılamaz?**

- A) Fiyatının bir önceki yıllarla aynı olduğu  
 B) Geçerlilik süresinin ne kadar olduğu  
 C) Fiyat bilgisi  
 D) Hangi illerde hangi müzelerde kullanıldığı

10. Köy muhtarı elindeki bastona dayanarak bir önceki gün geçirdiği kazayı anlatıyordu. Dediğine göre köy meydanına hızla giren bir araç önce kaldırıma çarpmış sonra da ona vurmıştu. Şoför aracından inip hemen yerde yatan muhtarın yanına geldi. Olayı gören Berber Mehmet Amca da hemen olay yerine koşmuş ve ilkyardım müdahalesi yapmıştı. Berber Mehmet Amca, "Öğretmen Bey, 112 Acil Servisi aradın mı?" diye sorduğunda ben çoktan aramıştım bile.

**Bu metinde anlatımı aşağıdakilerden hangisi yapmış olmalıdır?**

- A) Köy muhtarı  
 B) Berber Mehmet Amca  
 C) Öğretmen  
 D) Araç sürücüsü



11. Aşağıdaki tabloda 4. Sınıflarda kaç öğrencinin hangi meyve çeşidini sevdiğiyile ilgili veriler yer almaktadır. Her öğrenciden yalnızca bir meyve çeşidini tercih etmesi istenmiştir.

Meyve tercihi	Kız	Erkek
Elma	13	8
Portakal	12	17
Muz	23	26
Çilek	24	30

**Bu tabloya göre aşağıdakilerden hangisi söylenemez?**

- A) Öğrenciler tarafından en çok çilek sevilmiştir.  
 B) Hem kızlarda hem erkeklerde portakal, elmadan daha çok sevilmiştir.  
 C) Erkekler arasında en az tercih edilen meyve elmadır.  
 D) Muz ve çilek sevenler birlikte büyük çoğunluğu oluşturmaktadır.

12. Yazılışları farklı ancak anlamları aynı veya çok yakın kelimelere eş anlamlı kelimeler denir. Çoğu zaman cümlede birbirlerinin yerine kullanılırlar. Örneğin "İnsanlar başkalarında görüp kınadıkları ama düzeltmek için çaba göstermedikleri bir davranışı mutlaka kendileri de yaparlar." cümlesinde "kınadıkları" sözcüğünün yerine ..... kelimesi kullanılabilir.

**Metinde boş bırakılan yere aşağıdakilerden hangisi getirilebilir?**

- A) Düşündükleri  
 B) Utandıkları  
 C) Sevdikleri  
 D) Ayıpladıkları

13. Otobüs → Otogar  
 Uçak → Havaalanı

Yukarıda verilen kelime grupları arasında anlamca bir ilişki bulunmaktadır.

**Buna göre aşağıdaki kelime grupları arasında hangisinde benzer bir anlam ilişkisi bulunmaktadır?**

- A) Gemi → Liman  
 B) Helikopter → Pilot  
 C) Tren → Makinist  
 D) Bisiklet → Tekerlek

14. Bazen kişiler ifade etmek istedikleri duygu ve düşünceleri, karşdakilere daha etkileyici olarak aktarmak istediklerinde, varlıkları veya olayları olduğundan çok daha fazla ve büyük göstermeye çalışabilirler. İşte bu duruma abartı veya mübalağa denir.

**Buna göre aşağıdakilerden hangisinde abartılı bir anlatım yer almaktadır?**

- A) Yağmur şiddetini gittikçe arttırıyordu.  
 B) Yol gözümde o kadar büyüdü ki sonsuza kadar sürecek sandım.  
 C) Yemek hazırlamak için iki üç soğan ve birkaç domatesi hızlıca yıkadı.  
 D) Herkes elindeki kâğıt uçakları pencereden boşluğa bırakmaya başlamıştı.

15. Bilim insanları, sanayi ve tarım faaliyetleri nedeniyle ortaya çıkan gazların daha fazla enerjiyi dünyada tutarak sıcaklıkların yükselmesine ve doğal sera gazı etkisinin daha fazla hissedilmesine neden olduğunu söylüyor. Bu durum iklim değişikliği ya da küresel ısınma olarak tanımlanıyor. Küresel ısınmaya, atmosferde artan sera gazlarının neden olduğu düşünülmektedir. Karbondioksit, su buharı, metan gibi bazı gazların, Güneş'ten gelen radyasyonun bir yandan dış uzaya yansımalarını önleyerek ve diğer yandan da bu radyasyondaki ısıyı soğurarak yerkürenin fazlaca ısınmasına yol açtığı düşünülmektedir.

**Verilen metne en uygun başlık aşağıdakilerden hangisidir?**

- A) Bilim adamlarının çalışmaları  
 B) Sera gazlarının yapısı  
 C) Küresel ısınma ve nedenleri  
 D) İklim değişikliğinin tarıma etkisi

**Türkçe testi sona ermiştir. Lütfen Diğer Teste Geçiniz.**

**Cevap Formunuzda Cevaplarınızı Bir Sonraki Bölüme Kodlayınız.**

1. Bir çay bahçesinde hafta içi 5 günde toplam 1254 çay satılmıştır. Çayın en çok satıldığı gün çarşambadır. En az çay satılan gün ise salı olmuştur. Pazartesi günü satılan çay sayısı 212, perşembe günü satılan çay 287, cuma günü ise satılan çay sayısı 266'dır.

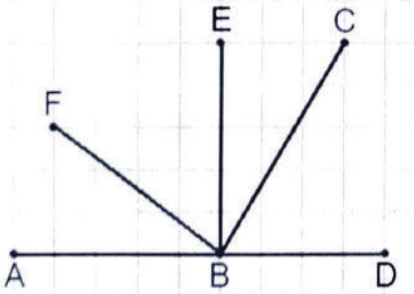
**Buna göre salı günü satılan çay sayısı en çok kaç olabilir?**

- A) 197  
B) 199  
C) 201  
D) 203
2. Aşağıda verilen kutuların içindeki sayıların aralarında belli bir örüntü kuralı vardır.



**Buna göre soru işaretli yere aşağıdakilerden hangisi getirilmelidir?**


- A) 86  
B) 97  
C) 98  
D) 101
3. Aşağıdaki görselde her bir kare birbirinin aynıdır.



**Görsele göre aşağıda verilen hangi üç nokta arasındaki çizgiler dar açı oluşturmaktadır?**

- A) CBD  
B) FBD  
C) ABC  
D) EBA

4.




Verilen şekilde bir kenarı 20 cm olan içi taralı bir kare yer almaktadır. Bu karenin içinden bir kenarı 12 cm olan başka bir kare taralı alandan çıkarılmıştır.

**Buna göre taralı alanın toplam çevre uzunluğu aşağıdakilerden hangisidir?**

- A) 80 cm  
B) 92 cm  
C) 96 cm  
D) 104 cm
5. Bir işyerinde üç farklı boyda satılan bardaklar, boyutu aynı olan kutulara konulacaktır. Bir kutuya büyük boy bardaklardan 12, orta boy bardaklardan 18 ve küçük boy bardaklardan ise 24 adet sığmaktadır. Kutulara konulacak bardak sayısı ise şu şekildedir:
- Büyük boy bardak: 360 adet  
Orta boy bardak: 540 adet  
Küçük boy bardak: 720 adet
- Buna göre taşıma işlemi için kaç adet koli gerekmektedir?**
- A) 90  
B) 96  
C) 102  
D) 108



6. Görseldeki abaküse boncuklar takılarak dört basamaklı bir doğal sayı modellenmesi yapılmıştır.



Yukarıda modellenmiş olan sayıdan 342 sayısı çıkarılıyor. Çıkarma işlemi sonunda elde edilen yeni sayı abaküse tekrar boncuklarla modellenecektir.

**Buna göre işlem sonucu elde edilen yeni sayının modellenmesi için abaküse toplam kaç boncuk takmak gerekir?**

- A) 13  
B) 15  
C) 17  
D) 19
7. Bir doğal sayının 1344 eksiği, rakamları birbirinden farklı en küçük dört basamaklı çift doğal sayıya eşittir.
- Buna göre, bu doğal sayı kaçtır?**
- A) 2344  
B) 2354  
C) 2368  
D) 2578
8. Manavdan kilogramı 14 liradan 5 kg elma, kilogramı 12 liradan 3 kg portakal ve yarım kilogram muz alan Beril manava 121 lira ödüyor.
- Buna göre Beril yarım kilogram yerine bir kilogram muz alsaydı aldıklarının tümüne toplam kaç lira öderdi?**
- A) 126  
B) 136  
C) 141  
D) 146

9.

Ürün	Kilo fiyatı
Yer fıstığı	108 TL
Çekirdek	86 TL
Fındık	228 TL
Kuru üzüm	122 TL
Leblebi	60 TL

Bir kuruyemiş dükkânındaki bazı ürünlerin kilogram fiyatları yukarıda verilmiştir.

**Buna göre aşağıdaki müşterilerin hangisi diğerlerinden daha çok harcama yapmıştır?**

- A) Burhan: "Bir kilo çekirdek, bir kilo leblebi ve yarım kilo fındık aldım."  
B) Ali: "Bir kilo yer fıstığı, bir buçuk kilo çekirdek ve bir kilo leblebi aldım."  
C) Fatih: "İki kilo leblebi, bir kilo çekirdek ve yarım kilo kuru üzüm aldım."  
D) Erol: "İki kilo çekirdek, yarım kilo fındık ve bir kilo yer fıstığı aldım."

10.

$\frac{8}{17}$		$\frac{1}{17}$
$\frac{4}{17}$		?
$\frac{3}{17}$	$\frac{6}{17}$	

Yukarıdaki tabloda her satır ve sütundaki kesirlerin toplamı birbirine eşittir.

**Buna göre soru işareti olan karenin içine hangi kesir yazılmalıdır?**

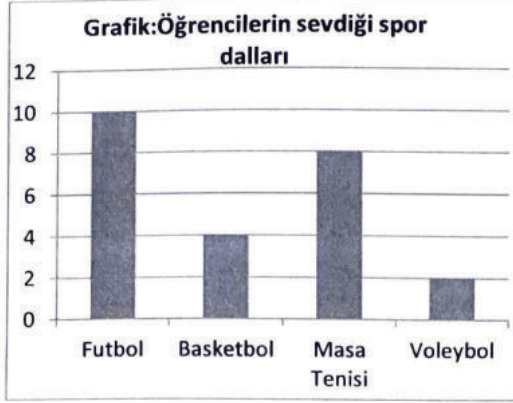
- A)  $\frac{5}{17}$                       B)  $\frac{6}{17}$   
C)  $\frac{7}{17}$                         D)  $\frac{8}{17}$

11. Bir vapur iskelesinden her 1 saat 10 dakika bir vapur kalkmaktadır. Bu iskeleden kalkan ilk vapurun kalkış saati 07.30'dur.

**Buna göre dördüncü vapurun bu iskeleden kalkış saati kaçtır?**

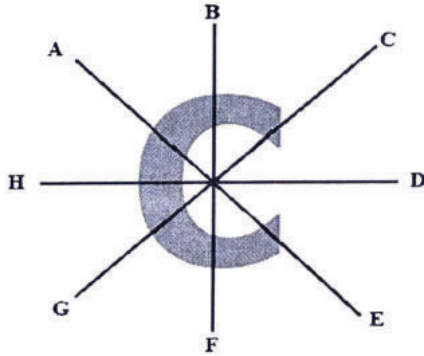
- A) 11.00                      B) 10.00  
C) 10.50                      D) 11.10

12. Aşağıdaki grafikte bir sınıftaki öğrencilerin sevdiği spor dallarına göre sayıları verilmiştir. Sınıftaki her öğrenci yalnızca bir spor dalını seçmiştir.



Buna göre aşağıdakilerden hangisi yanlıştır?

- A) Sınıf mevcudu 24 kişidir.  
 B) Voleybolu seven öğrenci sayısı en azdır.  
 C) Futbolu seven öğrenci sayısı, masa tenisi sevenlerin sayısından azdır.  
 D) Masa tenisi sevenlerin sayısı, basketbolu sevenlerden fazladır.
- 13.



Yukarıda verilen şeklin simetri doğrusu hangi iki harf arasındaki çizgiyle gösterilmiştir?

- A) BF  
 B) HD  
 C) CG  
 D) AE

- 14.


$$\begin{array}{r} 2215 \overline{) 25} \\ - 200 \quad \overline{) 88} \\ \hline 215 \\ - 200 \\ \hline 15 \end{array}$$

Yukarıdaki verilen bölme işleminin sağlaması aşağıdakilerden hangisidir?


- A)  $(25 \times 15) + 88 =$   
 B)  $(25 \times 88) - 15 =$   
 C)  $(25 \times 15) - 88 =$   
 D)  $(25 \times 88) + 15 =$

15. Aşağıdaki şekiller farklı sayıda birim küpten oluşmaktadır.

ŞEKİL 1



ŞEKİL 2



Yukarıda verilen şekillerin toplam birim küp sayısı kaçtır?

- A) 38  
 B) 40  
 C) 42  
 D) 45

Matematik testi sona ermiştir. Lütfen Diğer Teste Geçiniz.

Cevap Formunuzda Cevaplarınızı Bir Sonraki Bölüme Kodlayınız.



1.

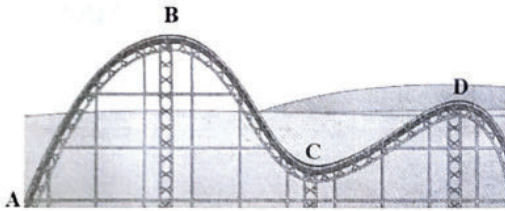


Yukarıda içinde su bulunan kabın bir işlem öncesi ve sonrasındaki iki farklı ölçümüne ait bilgiler verilmektedir. İlk ölçümde kabın içindeki suyun 20 derece ve hacminin 320 ml olduğu görülmüştür. İşlem sonrası yapılan ikinci ölçümde ise su 10 derece, hacim ise 390 ml olarak ölçülmüştür.

**Bu bilgilere göre kaba uygulanan işlem aşağıdakilerden hangisi olabilir?**

- A) Buzdolabında bir süre tutulmuştur.
- B) İçine bir miktar buz atılmıştır.
- C) Ocakta önce ısıtılmış sonra soğumaya bırakılmıştır.
- D) Sıcaklığı 25 derece olan bir miktar su eklenmiştir.

2. Başlangıç noktası A noktasından da önce olan bir lunapark treninin yolu aşağıda gösterilmektedir.



**A noktasından D noktasına giden bir lunapark treninin yaptığı bu hareket ile ilgili hangisi yanlıştır?**

- A) A noktasından B noktasına gelirken yavaşlar.
- B) D noktasını geçtikten sonra hız kazanır.
- C) C ve D noktası arasında yavaşlar.
- D) B ve C noktası arasında yavaşlar.

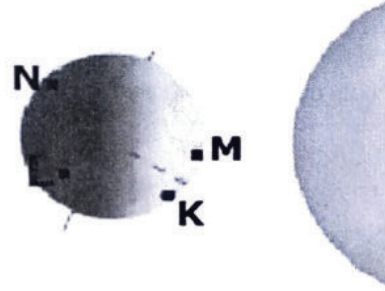
3. Araba motorları aşırı ısınan parçalar nedeniyle sürekli çalıştığı durumlarda soğutulması gereken araçlardır. Bu da genellikle su ile yapılır. Ancak çeşitli nedenlerle bazen motor aşırı ısınır ve görseldeki gibi motoru soğutması gereken su da aşırı kaynar buhar olarak soğutma sisteminin dışına çıkar.



**Bu örnek maddenin hal değişimi ile ilgili aşağıdakilerden hangisine aittir?**

- A) Katıdan sıvıya
- B) Sıvıdan gaza
- C) Gazdan sıvıya
- D) Sıvıdan katıya

4.



**Dünya ve Güneş'in konumları yukarıdaki görseldeki gibi iken aşağıdakilerden hangisinde gündüz yaşanır?**

- A) K ve M
- B) K ve L
- C) N ve L
- D) M ve L

5. Sağlıklı beslenme programı uygulamak isteyen bir öğrencinin yemek listesinde aşağıdakilerden hangisi **bulunmamalıdır?**

- A) Yoğurt
- B) Sebze yemeği
- C) Haşlanmış tavuk
- D) Cips




6. Aşağıdaki haritada A noktasında bulunan bir kimsenin gidebileceği dört farklı yön rakamlar ve ok işaretleri ile gösterilmiştir.



Buna göre A noktasından hangi yöne doğru gidildiğinde güneşin diğer noktalara oranla daha geç battığı bir yere ulaşılmış olur?

- A) 1  
B) 2  
C) 3  
D) 4

7.



Görsele yapılan ölçüm aşağıdakilerden hangisine aittir?

- A) Hacim  
B) Uzunluk  
C) Kütle  
D) Sıcaklık

8. Gece yıldızları görmek isterseniz şehir dışına çıkmalısınız. Çünkü şehirlerden yayılan parlaklık gökyüzüne yansır ve yıldızların görülmesini zorlaştırır.

Metinde gece yıldızların gözlenmesinde aşağıdakilerden hangisinin olumsuz etkisine işaret edilmiştir?

- A) Işık kirliliği  
B) Ses kirliliği  
C) Deniz kirliliği  
D) Çevre kirliliği

9. Resimde iki parçadan oluşan ve cam silmeye yarayan mıknatıslı cam silme aracı görülmektedir.



Bu araçta arada cam olmasına rağmen iki parçanın birbirinden ayrılmaması ile ilgili aşağıdakilerden hangisi doğrudur?

- A) Farklı kutupların birbirini çekmesi ile çalışır.  
B) Camdaki kirler sayesinde iki parça ayrılmaz.  
C) Kuvvet uygulandığı için parçalar ayrılmaz.  
D) Elektrik enerjisinden yararlanılmıştır.

10. I. Normal şartlarda sert olan asfalt bir yolun aşırı sıcaklarda erimesi

II. Akışkan bir maddenin dondurucuda bekletilip sertleştirilmesi

III. Kartona gelen sert bir cismin onda bir delik açması

Verilenlerden hangisi maddenin hal değişimine örnektir?

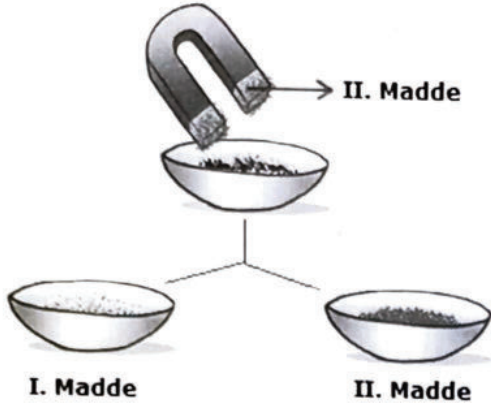
- A) Yalnız II  
B) I ve II  
C) II ve III  
D) I, II ve III

11. Yerküre kayaçlardan oluşur. Bu kayaçlar içinde özellikle ekonomik değeri yüksek mineral barındıran kayaçlara maden adı verilir. Ancak her madenin ekonomik değeri aynı değildir. Madenler çıkarıldıkları miktar ve arz-talep ilişkisine göre farklı değerlere sahiptir.

Buna göre aşağıdakilerden hangisi diğerlerinden daha az ekonomik değere sahiptir?

- A) Altın  
B) Gümüş  
C) Bakır  
D) Kömür

12.



Görselde bir kap içinde karışık olarak bulunan iki madde bir mıknatıs yardımı ile ayrılmıştır. Mıknatısın ucunda toplanan maddeler II. kap içine konmuştur.

**Buna göre iki kap içinde olabilecek maddelerle ilgili aşağıdakilerden hangisi doğrudur?**

	I. Madde	II. Madde
A)	Demir tozu	Talaş
B)	Nikel tozu	Kobalt tozu
C)	Kum	Demir tozu
D)	Plastik	Talaş

13.



Ölen bir canlının organik kısımlarının toprak altında çürümesi



Canlı kalıntısının hava ile temasının kesilmesi



Basınç altında uzun süre kalan canlı kalıntısının uzun süre sonunda taşlaşması

**Görseller ve açıklamaları aşağıdakilerden hangisine aittir?**

- A) Maden oluşumu
- B) Fosilleşme
- C) Rüzgâr aşındırması
- D) Çölleşme

14. I. Buz, su haline gelirken ısı .....

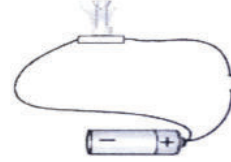
II. Su, donarken ısı .....

III. Su, kaynayıp buhar olurken ısı .....

**Boş bırakılan yerlere sırasıyla aşağıdakilerden hangisi getirilmelidir?**

	I	II	III
A)	alır.	verir.	verir.
B)	verir.	alır.	alır.
C)	alır.	verir.	alır.
D)	verir.	alır.	verir.

15. Aşağıdaki görselde basit bir aydınlatma devresi bulunmaktadır. Devre, bu şekilde iken ışık vermemektedir.



**Bu basit aydınlatma devresinde ışığın yanması ile ilgili aşağıdakilerden hangisi söylenebilir?**

- A) Pil, daha güçlü enerji veren bir pille değiştirilmelidir.
- B) Işık ile pil arasındaki anahtar açık duruma getirilmelidir.
- C) Kablolardan biri pilin eksi kutbuna bağlanmalıdır.
- D) Kabloların ikisi de pilin eksi kutbuna bağlanmalıdır.

**Fen Bilimleri testi sona ermiştir. Lütfen Diğer Teste Geçiniz.**

**Cevap Formunuzda Cevaplarınızı Bir Sonraki Bölüme Kodlayınız.**



1. **Eslem:** Benim yaşadığım yerde karların erimesi ve aşırı yağın yağmurlar sonrası sokaklarımızda zaman zaman su baskınları olmaktadır.

**Zeynep:** Etrafı dağlarla çevrili şehrimizde kışın yoğun kar yağışlarıyla karşılaşmaktayız. Kimi günler dağların yamaçlarından kar kütleleri aşağıya doğru yuvarlanmaktadır.

**Hüveyda:** Yerkabuğunun kırılmasıyla birlikte şehrimizde geçtiğimiz yıllarda büyük bir yer sarsıntısı yaşadık.

**Öğrencilerin açıklamalarında hangi afetten hiç bahsedilmemiştir?**

- A) Deprem  
B) Heyelan  
C) Sel  
D) Çiğ

2. **Metin:** Ailemle birlikte her yaz köyümüze gitmeyi severiz.

**Ayşe:** Çokça lazım olduğu için kimlik numaramı ezberledim.

**Salih:** Muayene olurken boyumu ölçtüler, 145 cm çıktı.

**Erva:** 2005 yılının Ekim ayında dünyaya gelmişim.

**Hangi öğrencilerin sözleri içinde geçen bir bilgiye nüfus cüzdanından ulaşılabılır?**

- A) Metin ve Ayşe  
B) Ayşe ve Salih  
C) Ayşe ve Erva  
D) Metin ve Salih

3. **Aşağıdakilerden hangisi doğal unsurlar arasında yer alır?**

- A) Osmangazi Köprüsü  
B) Mevlana Türbesi  
C) Çanakkale Boğazı  
D) Taksim Meydanı

4. Günümüzde teknoloji pek çok alanda çok hızlı gelişmektedir. Eskiden bir yerden bir yere gitmek epey zaman alan zahmetli bir işken artık daha rahat ve hızlı araçlarla gideceğimiz yerlere ulaşabiliyoruz. Dedelerimiz tuşlu telefon kullanırken artık dokunmatik ekranlı telefonlar kullanıyoruz. Hastanelerde kullanılan araç ve malzemelerin gelişmesi ile daha güvenli tedavi ve ameliyatlara yapılabilmektedir.

**Metinde hangi alandaki teknolojik gelişime örnek verilmemiştir?**

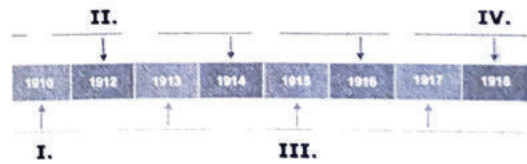
- A) Sağlık  
B) Temizlik  
C) Ulaşım  
D) Haberleşme

5. Şanlıurfa'nın işgalden kurtuluşunda direnişi organize eden tarihi bir kahraman şunları söylemiştir: "Şimdi toprağa serilip kalmış bu bahtsız Fransız delikanlıları ne arıyorlardı burada? Niye geldiler, burada ne işleri vardı? Urfa nere, Paris nere? Neden gelip yaşamlarını burada bıraktı bu genç insanlar. Türk yurdunu ele geçirmek, Türk istiklalini yok etmek için buraya gönderilen bu bahtsızları oymakların ve çevre köylerin savaşıları öldürmedi. Hayır, onları buraya gönderenler öldürdü."

**Bu sözler aşağıdakilerden hangisi tarafından söylenmiştir?**

- A) Şahin Bey  
B) Rıdvan Hoca  
C) Çakmakçı Sait  
D) Ali Saip Bey

6. Osmanlı Devleti, I. Dünya Savaşı sonunda Mondros Ateşkes Antlaşmasını imzalamıştı. Bu antlaşmayı gerekçe gösteren İtilaf Devletleri yurdumuzu işgale başladılar.



**Buna göre İtilaf Devletlerinin yurdumuzu işgale başlama zamanı yukarıdaki tarihin şeridinde hangi rakamla ifade edilmiştir?**

- A) I.  
B) II.  
C) III.  
D) IV.



7.

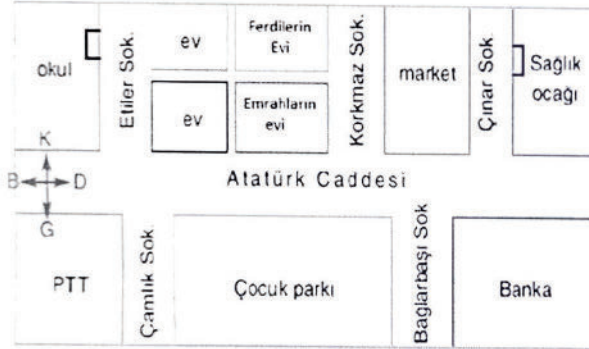


Orta Anadolu'da bir grup öğrenci kırsal bir alanda yürüyüşe çıkarlar. Ancak bir süre sonra yollarını kaybederler. Telefonları da çekmeyince ne tarafa gideceklerini bilemezler. İçlerinden biri yukarıdaki görseldeki karınca yuvasını göstererek yuvanın açık kısmının tam ters yönüne gitmeleri gerektiğini söyler.

**Buna göre öğrencilerin gitmeleri gereken yer aşağıdaki hangi yönde bulunmaktadır?**

- A) Batı
- B) Güney
- C) Kuzey
- D) Doğu

8.



Okuldan sağlık ocağına gitmek isteyen bir öğrenci okulun kapısından çıkıp Etiler Sokak üzerinde bir süre yürür. Atatürk Caddesine ulaştınca yön değiştirir ve bu cadde boyunca yola devam eder. Çınar Sokak ile Atatürk Caddesinin kesiştiği yerde yeniden yön değiştirir ve Sağlık ocağına ulaşır.

**Buna göre öğrenci, aşağıdaki yönlerden hangisine doğru yürümemiştir?**

- A) Batı
- B) Güney
- C) Doğu
- D) Kuzey

9.



**Yukarıda verilen coğrafi bölgeler haritasından şehirlerimizle ilgili aşağıdakilerden hangisine ulaşılabilir?**

- A) Hangi bölgede olduklarına
- B) Denizden yüksekliklerine
- C) Nüfus bilgilerine
- D) Ova ve platoların yerlerine

10. Aşağıda bir ailenin bazı bireylerine ait doğum ve ölüm yılları ile ilgili bilgi verilmiştir.

**Metin (Dede)** : 1940-2005

**Selma (Babaanne)** : 1944-2021

**Kerim (Amca)** : 1969- Halen yaşıyor.

**Cemil (Baba)** : 1974- Halen yaşıyor.

Ceylin, geçtiğimiz yıllarda yukarıdaki aile bireylerinden biriyle bir görüşme yapmıştır. Konuşmacı, Ceylin'e aile geçmişi ile şu açıklamayı yapmıştır:

"1966'da büyük bir deprem felaketi yaşadık. 1990'da oğlumuz askerden yeni dönmüştü. Eşimle ben buna çok sevindik. 2020'de korona salgını başladığında ise önceden eşim vefat ettiği için biraz yalnızlık çektim. Çünkü hastalık tehlikesi nedeniyle çocuklarımla da daha az görüşmek zorunda kalmıştım."

**Buna göre Ceylin'in görüştüğü kişi aşağıdakilerden hangisidir?**

- A) Dedesi
- B) Babaannesi
- C) Amcası
- D) Babası

Sosyal Bilgiler testi sona ermiştir. Lütfen Diğer Teste Geçiniz.

Cevap Formunuzda Cevaplarınızı Bir Sonraki Bölüme Kodlayınız.



1. Hz. Peygamber hicretten sonra Medine’de bir süre Ebu Eyyüb adındaki sahabinin evinde misafir olmuştu. Çünkü henüz Medine’de bir evi yoktu. Evi yapıldıktan sonra da arada sırada Ebu Eyyüb’ün yaşadığı mahalleye gider ve kaldığı evin çevresindeki evlerde yaşayanlarla ilgilenir, hallerini hatırlarını sorardı.

**Bu metinde aşağıdakilerden hangisine önem verildiğine işaret edilmiştir?**

- A) Akrabalarla ilişkiler  
B) Komşuluk ilişkileri  
C) Kardeşlerle iyi geçinme  
D) Büyüklere saygılı davranma

2. Kureyş kabilesinin ileri gelenlerindendi. İnsanlar arasında soyluluğu ve iyilikseverliğiyle tanınmıştı. İnsanlara yardım etmeyi severdi. Mekke’ye dışarıdan gelen hacılara su dağıtma görevini üstlenmişti. O, yıllar önce unutulmuş zezem kuyusunun yerini Allah’ın (c.c.) yardımıyla bulmuş ve zezem suyunu yeniden çıkararak insanların faydasına sunmuştu.

**Hayatı ile ilgili bilgi verilen kişi aşağıdakilerden hangisidir?**

- A) Ebu Talip  
B) Hz. Ebubekir  
C) Abdulmuttalip  
D) Peygamberimizin babası Abdullah

3.



Görselde besmele ifadesinin Arapça yazılışı bulunmaktadır.

**Bu ifade ve anlamı ile ilgili aşağıdakilerden hangisi söylenemez?**

- A) Allah’ın adı geçmektedir.  
B) Allah’ın merhametli anlamına gelen isimleri bulunmaktadır.  
C) Şeytanın kötülüklerinden Allah’a sığındığı belirtilmektedir.  
D) Bismillah şeklinde başlanmaktadır.

4. "Allah’ım! Sen tüm eksikliklerden uzaksın."

**Türkçe anlamı yukarıdaki şekilde başlayan duanın Arapça okunuşu aşağıdakilerden hangisi ile başlar?**

- A) Ettahiyatü lillahi  
B) Allahumme Salli ala Muhammed  
C) Rabbena atina fiddünya  
D) Subhanekallahumme

5. Kur’an-ı Kerim’de Allah’ın verdiği nimetlere karşılık ona şükredilmesi istenmiştir. Bunun için de Allah’a teşekkür edildiği anlamına gelen özel bir ifade söylenmektedir. Bu ifade örneğin yemeklerden sonra ve su içtikten sonra söylenmektedir.

**Metinde değinilen ifade aşağıdakilerden hangisidir?**

- A) Elhamdulillah  
B) Subhanallah  
C) Biiznillah  
D) Maşaallah

6. Allah'ım! Senin varlığına, birliğine, sıfatlarına, peygamberlerine, ahiret gününe, kitaplarına, meleklerine, iyiliğin ve kötülüğün Sen'den geldiğine inanıyorum.

**Bu sözler en çok aşağıdakilerden hangisinin karşılığıdır?**

- A) İbadet  
B) İman  
C) Ahlak  
D) Kısas

7. İslam'a göre varlıklar alemi yalnızca gözle görülen varlıklardan oluşmaz. Allah'ın yarattığı varlıkların bir kısmını görebiliriz ancak bir kısmını görmemize izin verilmez. Örneğin Allah'ın çeşitli görevler yerine getiren, nurdan yarattığını belirttiği ancak gözümüzle göremediğimiz görevlileri vardır.

**Metinde iman esaslarından hangisine ait örnek verilmiştir?**

- A) Meleklerle iman  
B) Kitaplara iman  
C) Peygamberlere iman  
D) Kadere iman

8. Kişi, bu ibadeti yaparak cimrilik ve bencilik gibi kötü duygu ve düşüncelerden uzaklaşır. Ayrıca ihtiyaç sahiplerinin ihtiyaçlarını gidermenin manevi huzurunu yaşar. Bu aynı zamanda toplumda mutluluğun artmasına vesile olur. Bunun için zengin Müslümanların muhtaç kimselere yardım etmesi önemli bir ibadettir.

**Metinde aşağıdakilerden hangisinin yararları anlatılmaktadır?**

- A) Namaz  
B) Hac  
C) Zekât  
D) Oruç

9. Hz. Muhammed (s.a.v.) bir hadisinde "Oruç bir kalkandır; sakın bir kimse oruçluysen cahillik edip de kötü söz söylemesin. Birisi sataşır veya kötü söz söyleyecek olursa 'Ben oruçluyum, ben oruçluyum' desin." buyurmuştur.

**Bu hadis oruçla ilgili aşağıdakilerden hangisini açıklamaktadır?**

- A) Davranışları güzelleştirmesi gerektiğine  
B) İhtiyaç sahiplerini gözetmenin önemine  
C) Fakir insanların ihtiyaçlarını giderdiğine  
D) Düşmanlara karşı toplumu güçlendirdiğine

10. Kur'an-ı Kerim sureleri;

I. Toplam sayıları 114'tür.

II. İsimlerini içinde geçen bir olaydan veya konudan alabilirler.

III. Bazıları peygamberlerin isimleriyle isimlendirilmiştir.

**Kur'an-ı Kerim sureleri hakkında yukarıda verilenlerden hangisi söylenir?**


- A) Yalnız II  
B) I ve II  
C) II ve III  
D) I, II ve III

**Din Kültürü ve Ahlak Bilgisi testi sona ermiştir. Lütfen Diğer Teste Geçiniz.**

**Cevap Formunuzda Cevaplarınızı Bir Sonraki Bölüme Kodlayınız.**



1. Resme bakarak aşağıdaki diyalogu okuyunuz.







Merve: .....

Seda: It's in front of the house.

Seda'nın cevabına göre Merve'nin sorduğu soru aşağıdakilerden hangisi olmalıdır?

- A) Where is the car
- B) What is the car
- C) How is the car
- D) When is the car

2. Aşağıdaki tabloda resim ve açıklama eşleştirmelerinden hangisi yanlıştır?

	PICTURES	INSTRUCTIONS
A)		Water the seeds.
B)		Do an experiment.
C)		Ride a bike.
D)		Drive the car.

3.



Verilen görsel aşağıdakilerden hangisi ile ilişkilendirilebilir?

- A) Comb your hair every morning!
- B) Brush your teeth twice a day!
- C) Wash your hands for 20 seconds!
- D) Make up your bed!

4.



Görsele göre aşağıdaki metnin sonuna aşağıdakilerden hangisi getirilmelidir?

He is a farmer. He works at a farm. He is .....

- A) helping animals.
- B) bringing letters.
- C) singing.
- D) planting vegetables.

5. Jasmin: .....

Asuman: She is from Italy.

Diyalogda verilen cevaba göre boşluğa aşağıdakilerden hangisi getirilmelidir?

- A) Where is she from?
- B) Can you write letter?
- C) How old are you?
- D) Is she a nurse?

6.



**Aşağıdaki cümlelerden hangisi yukarıdaki resimle doğrudan ilişkilidir?**

- A) I get up in the morning.
- B) I go shopping in the afternoon.
- C) I do my homework in the evening.
- D) I get dressed in the morning.

7.



**Görsele uygun seçenek aşağıdakilerden hangisidir?**

- A) Raise your hands, please!
- B) Turn off the lights, please
- C) Be quiet, please!
- D) Clean the board, please!

8. Mary: .....

Sarah: At half past seven.

**Yukarıda verilen cevabın sorusu aşağıdakilerden hangisi olabilir?**

- A) Do you hear me?
- B) What time do you get up?
- C) Where is she?
- D) What can you do in the morning?

9.



Burak is Turkish and He is from Türkiye. He likes .....





**Görsele göre yukarıdaki boşluğa aşağıdakilerden hangisi getirilmelidir?**

- A) riding a bicycle
- B) coloring the wall
- C) climbing the tree
- D) drinking tea

10. Enes: What is the weather like today?

Harun: It's rainy.

**Diyalogda geçen hava durumu aşağıdakilerden hangisidir?**

- A) 
- B) 
- C) 
- D) 

**Sınav sona ermiştir. Cevaplarınızı kontrol etmeyi unutmayınız.**